



# Fun & Animatie

## Aqua raadsel:

Je hebt 3 emmers, emmer A waar 10 liter in kan, emmer B waar 7 liter in kan en emmer C waar 3 liter in kan. Emmer A is helemaal vol met osmosewater. Nu moet je door middel van overgieten het osmosewater juist verdeeld krijgen. In emmer A precies 5 liter en in emmer B ook precies 5 liter. Je mag niet gokken met overgieten, er staan ook geen maten op de emmer.




## Vraag:

Binnen hoeveel keer gieten, kun je dit osmosewater juist verdelen?

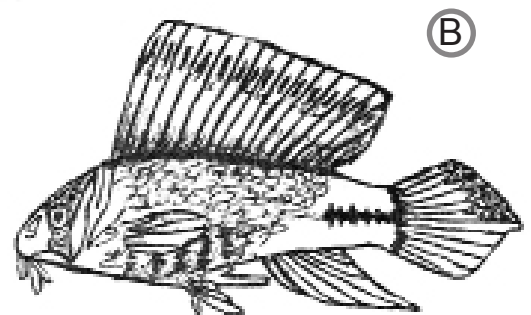

## Foto puzzel:

Welke bekende en populaire vis zit verscholen achter de blauwe blokjes?



## Bastaardvissen

Onderstaande vissoorten zijn ontsproten uit de fantasie van de tekenaar. Het zijn kruisingen van drie min of meer bekende aquariumvissen. Aan u, om uit de 10 opgesomde visnamen de 6 juiste aan te duiden met A of B.



- Corydoras arcuatus - Stroomlijnpantermeerval
- Neolamprologis brichardi - Prinses van Burundi
- Pelvicachromis subocellatus - Afrikaanse dwergcichlide
- Poecilia velifera - Zeilvinkarper
- Hemigrammus bleheri - roodneuszalm
- Paracheirodon axelrodi - Kardinaal tetra
- Loricaria parva - Naaldmeerval
- Corydoras melanistius - Pantsermeerval
- Megalamphodus megalopterus - Zwarte Fantoomezalm
- Colisa lalia -Dwergoerami

